

1 世界の姿①

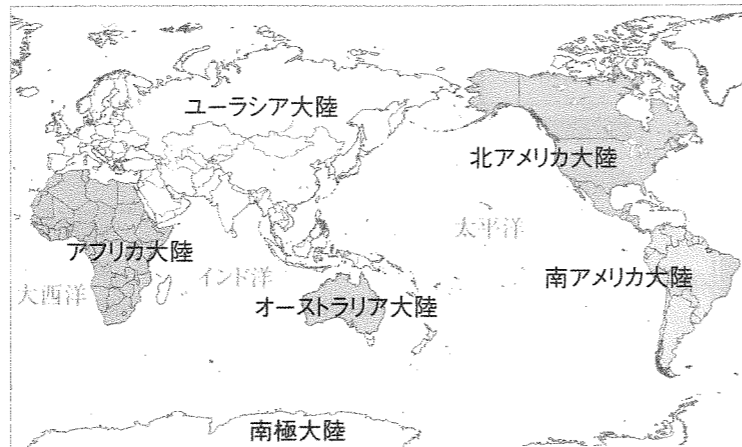
教科書 p. 2~7

1 私たちの住む地球

(1) 六大陸と三大洋…地球上の海洋と陸地の面積の割合は、およそ7対3。海の部分が多く、地球は「水の惑星」とよばれる。

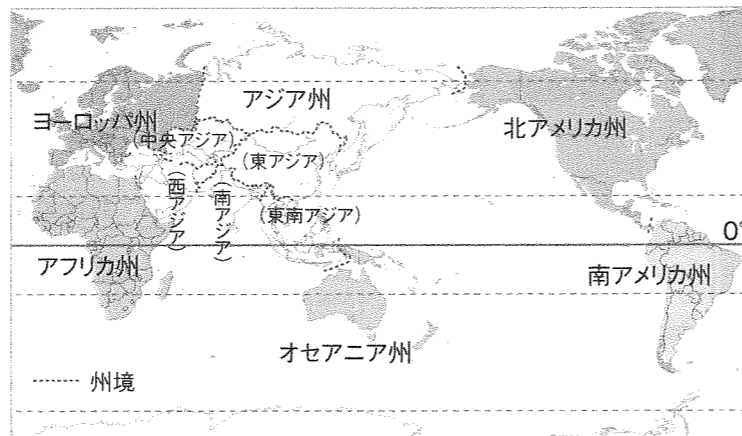
① **海洋**…太平洋、大西洋、インド洋の三大洋とそのほかの海からなる。
・太平洋は面積が世界最大の海洋で、その名前は、探検家マゼランが太平洋を航海中に一度も嵐にあわなかったことから、ラテン語で「平穏な海」と名づけたことに由来するとされる。

◆六つの大陸と三つの大洋



② **陸地**…ユーラシア大陸、北アメリカ大陸、南アメリカ大陸、オーストラリア大陸、南極大陸の六つの大陸と、そのほかの島々からなる。
・ユーラシア大陸は、面積が世界最大の大陸で、その名前は、「ヨーロッパ」と「アジア」を意味する2つの語を合わせてつくられたとされる。

◆州の区分



(2) **地域区分**…島々をふくめて世界を地域分けする場合、六つの州に分ける方法がとられることが多い。

① **六つの州**…東西に長いユーラシア大陸は、ロシアのウラル山脈を境として、ヨーロッパ州とアジア州に分けられる。ほかに、アフリカ州、北アメリカ州、南アメリカ州、オセアニア州がある。

② 二つの州にまたがる国

・ロシア連邦、トルコ…ヨーロッパ州とアジア州にまたがる。
・エジプト…アジア州とアフリカ州にまたがる。 ・パナマ…北アメリカ州と南アメリカ州にまたがる。

③ **さらに細かい地域分け**…州をさらに細かい地域に区分することもある。アジア州は、東アジア、東南アジア、南アジア、西アジア、中央アジアなどに分けられる。日本は、このうちの東アジアに位置する。

2 世界のいろいろな国

(1) **世界の国々の数**…世界には、190余りの国がある。

(2) 海との位置関係

① **島国**…国の全体が大陸からはなれており、周りを海で囲まれている国。日本やフィリピン、スリランカなど。

② **内陸国**…海にまったく面していない国。周りはすべて陸続きでほかの国とつながっている。モンゴル、ネパール、ウズベキスタン、アフガニスタンなど。

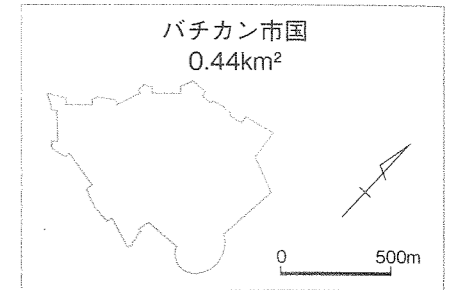
◆島国と内陸国



(3) 面積・人口

① **面積**…世界の国々の面積は、大きささまざまである。世界で最大のロシアの面積は、日本の面積のおよそ45倍ある。一方で、面積が世界最小のバチカン市国や、オランダ、スイスなどのように、日本より面積が小さい国もある。

◆バチカン市国の大きさ



② **人口**…世界で最も人口が多い国は14億人をこえる中国、第2位は14億人に近いインド。約1億3千万人の日本は第11位(2019年)で、世界の中では人口が多いほうの国である。

◆面積が大きい国

	国名	面積(万km ²) 2017年
1	ロシア	1710
2	カナダ	998
3	アメリカ合衆国	983
4	中華人民共和国	960
5	ブラジル	852

(「Demographic Yearbook 2017」ほか)

◆面積が小さい国

	国名	面積(万km ²) 2017年
1	バチカン市国	0.00004
2	モナコ公国	0.0002
3	ナウル	0.002
4	ツバル	0.003
5	サンマリノ	0.006

(「Demographic Yearbook 2017」ほか)

◆人口が多い国

	国名	人口(万人) 2019年
1	中華人民共和国	143378
2	インド	136642
3	アメリカ合衆国	32907
4	インドネシア	27063
5	パキスタン	21657

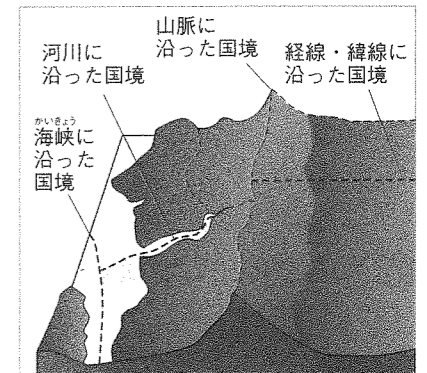
(2019/20年版「世界国勢図会」)

(4) 国境線…国と国との境を国境という。

① **自然の地形が基準の国境**…山脈や川、湖などの自然の地形に沿って決められた国境が多い。

② **人工的に定められた国境**…人間が考えた緯線や経線といった直線に沿って国境が決められている場合もある。アフリカ大陸には、このような、まっすぐな国境線が多くみられる。これは、ヨーロッパの国々がかつてこの地域を分割して支配したときに定めた境界のなごりである。

◆いろいろな国境



(5) 国名の由来…世界の国々の国名には、さまざまな由来がある。


◆南アメリカ州の国名の由来の例

コロンビア…探検家コロンブスに由来。	ガイアナ…「水源」という意味。
エクアドル…「赤道」という意味。	チリ…「寒い」という意味。
パラグアイ…「豊富な水」という意味。	ペルー…「川」という意味。
ボリビア…独立運動の指導者「シモン＝ボリバル」に由来。	

(6) 国旗…世界の国々の国旗には、自然や歴史、宗教などその国に関わりが深いことがデザインに取り入れられていたり、自由や平和など人々の思いがこめられていたりする。

◆オセアニア州の国々の国旗の例

・オセアニア州の国々の国旗には、南十字星をえがいたものや、太平洋を象徴する青色が地色に用いられているもの、イギリスの国旗(ユニオンジャック)がえがかれているものなどがある。

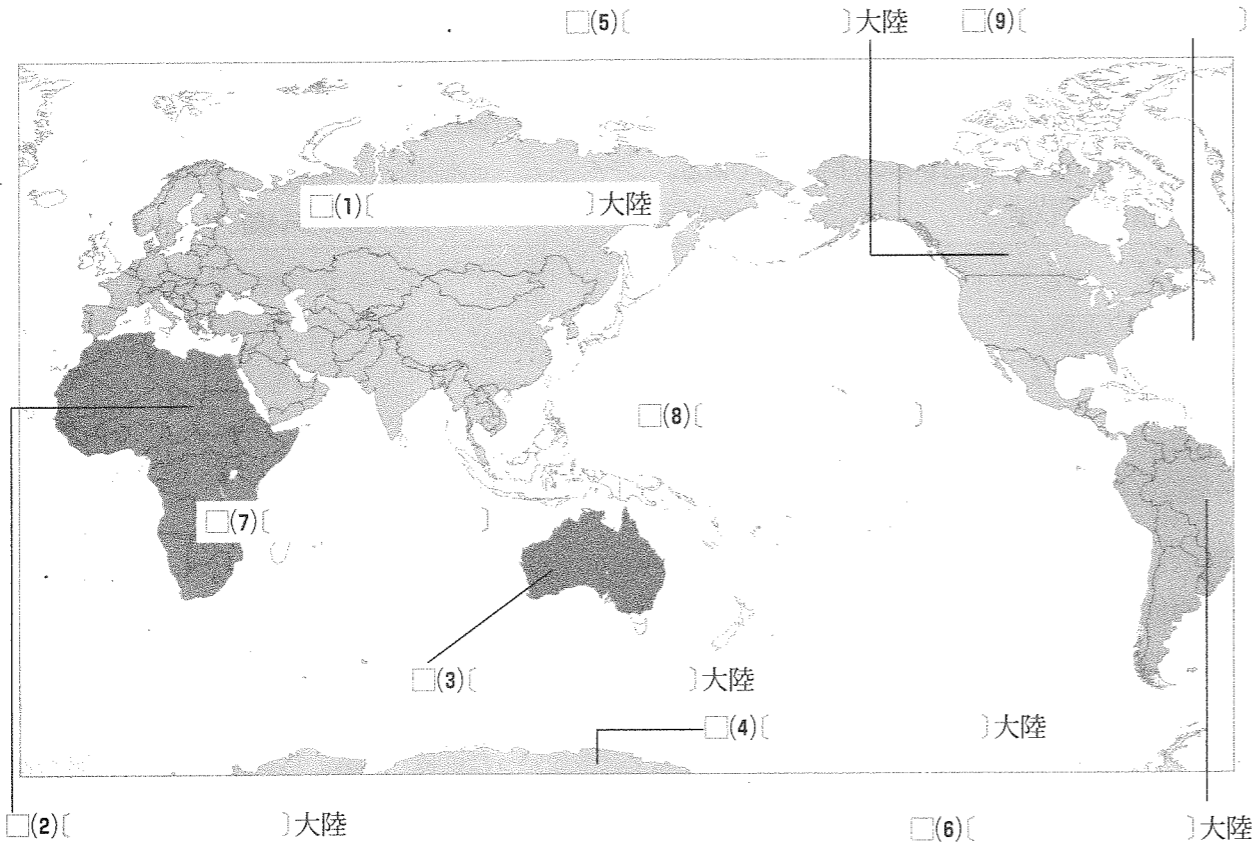


(7) **国々を見るいろいろな視点**…世界の国々を見る視点には、どのような食文化があるか、どのような映画や物語の舞台となったか、どのようなスポーツが盛んか、といったいろいろな視点がある。

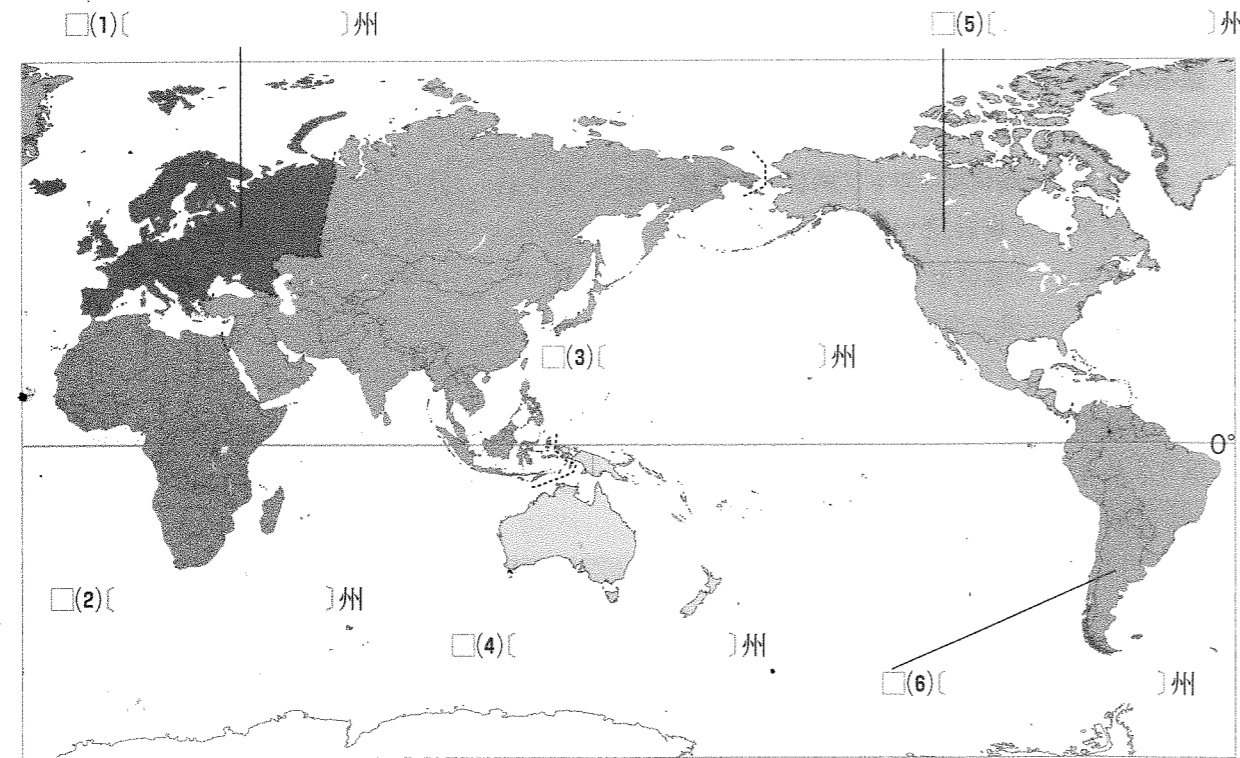
要点の整理

学習日 月 日

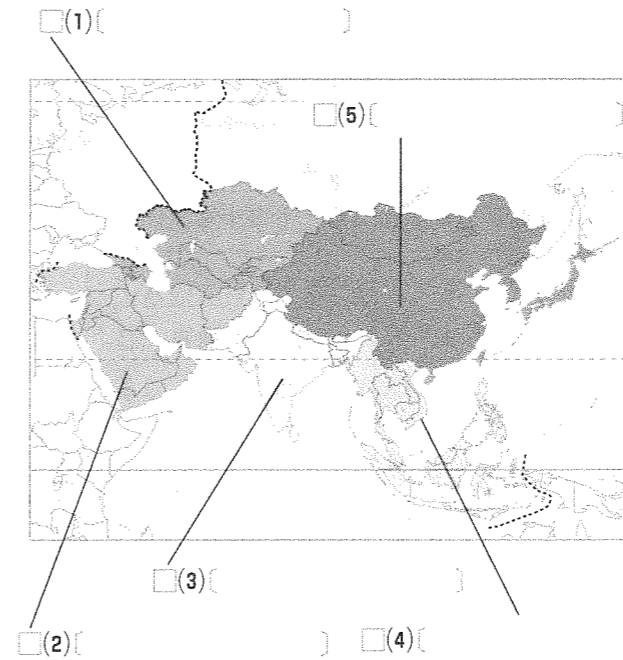
1 私たちの住む地球① []にあてはまる語句を答えなさい。



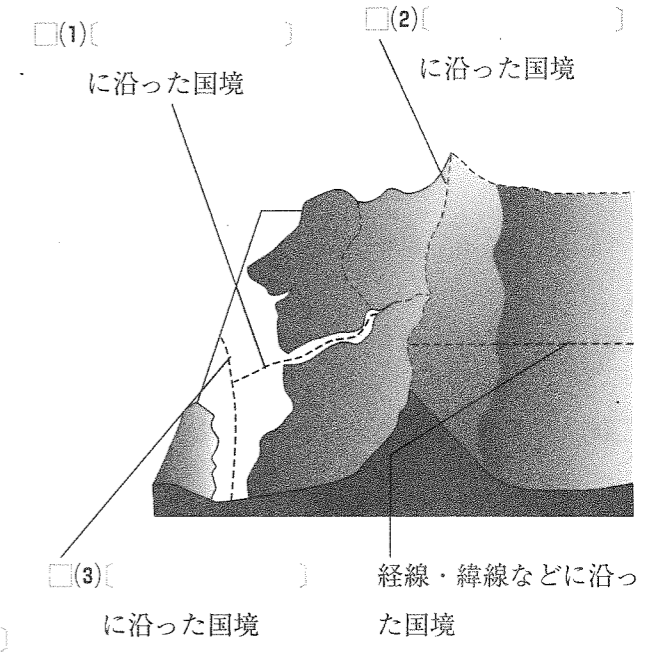
2 私たちの住む地球② []にあてはまる語句を答えなさい。



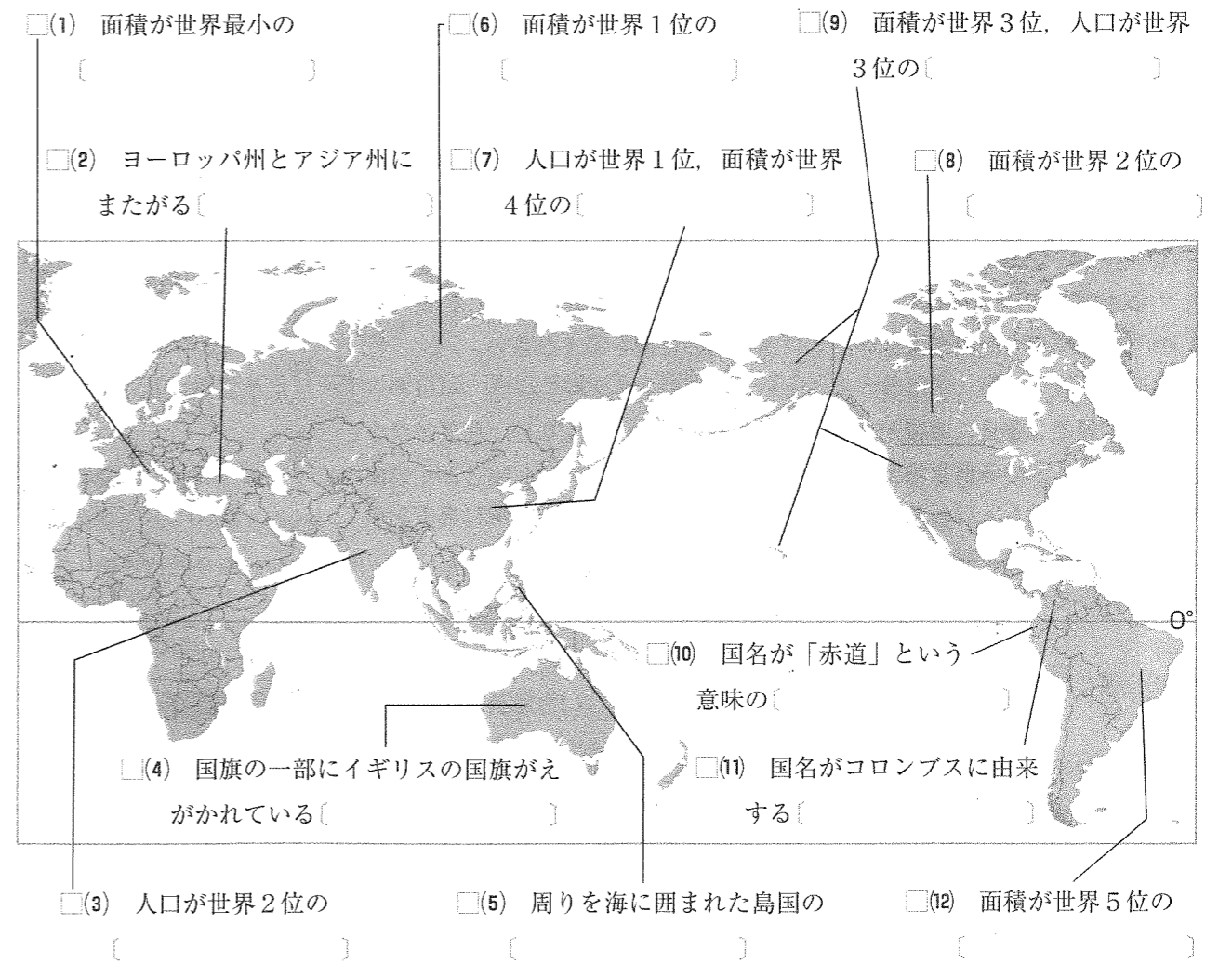
3 私たちの住む地球③ []にあてはまる語句を答えなさい。



4 世界のいろいろな国① []にあてはまる語句を答えなさい。



5 世界のいろいろな国② []にあてはまる国名を答えなさい。



私たちの住む地球

世界のいろいろな国

- (1) 世界の陸地と海洋の面積を比較したとき、大きいのはどちらか。
- (2) 世界に六つある大きな陸地を何というか。
- (3) (2)のうち、最も面積が大きいものの名前を答えなさい。
- (4) (2)のうち、最も面積が小さいものの名前を答えなさい。
- (5) 世界に三つある大きな海を何というか。
- (6) (5)のうち、最も面積が大きいものの名前を答えなさい。
- (7) 世界を六つの州に分けたとき、(3)の大陸は、アジア州と何州に分けられるか。
- (8) アジア州は、さらにいくつかの地域に分けることができる。日本は、そのうちの何とよばれる地域にふくまれるか。
- (9) 世界を六つの州に分けたとき、(4)は、何州にふくまれるか。
- (10) (2)のうち、世界を六つの州に分けたときにいずれの州にもふくまれないものの名前を答えなさい。
- (11) アジア州の国であるモンゴルやネパールは、まったく海に面していない。このような国を何というか。
- (12) 日本などのように、国の全体が大陸からはなれ、周りを海に囲まれている国を何というか。
- (13) 世界で最も面積が大きい、(3)にある国の名前を答えなさい。
- (14) 世界で2番目に面積が大きい、人口はあまり多くない、北アメリカ州にある国の名前を答えなさい。
- (15) 世界で最も人口が多く、面積が4番目に大きい、(8)の地域にある国の名前を答えなさい。
- (16) 世界で最も面積が小さい、(7)の州にある国の名前を答えなさい。
- (17) 国と国との境を何というか。
- (18) かつてヨーロッパの国々によって分割されて支配を受けたことから、まっすぐな(17)の線が多くみられるのは何という州の国々か。
- (19) 「赤道」という意味の国名をもつ、南アメリカ州にある国の名前を答えなさい。
- (20) オーストラリアなどの国旗にえがかれている、ユニオンジャックとよばれる国旗はどここの国のものか。

- (1) -----
- (2) -----
- (3) -----
- (4) -----
- (5) -----
- (6) -----
- (7) -----
- (8) -----
- (9) -----
- (10) -----
- (11) -----
- (12) -----
- (13) -----
- (14) -----
- (15) -----
- (16) -----
- (17) -----
- (18) -----
- (19) -----
- (20) -----

① 右の図は、海洋が多く見える半球を表している。これを見て、次の問いに答えなさい。

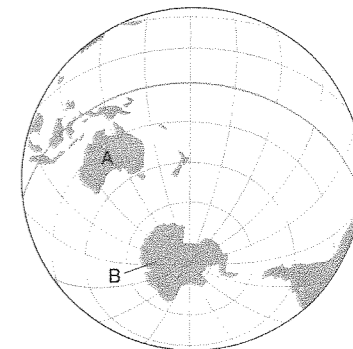
(1) A、Bで示した大陸の名を答えなさい。

A [] B []

(2) 次の文章中の1～3にあてはまる語句を答えなさい。

Aの大陸は、世界の三つの大洋のうち、西側が(1)に面し、東側は(2)に面している。三つの大洋のうちもう1つである(3)には、Aの大陸は面していない。

1 [] 2 [] 3 []



② 次の問いに答えなさい。

(1) 右の地図中にA～Cで示した国は、世界の六つの州のうち2つの州にまたがっている。それぞれの国がふくまれる州の名を答えなさい。

A [] と []

B [] と []

C [] と []

(2) アジア州をさらにいくつかの地域に分けたとき、次の国がふくまれる地域名を答えなさい。

① パキスタン ② イラン

③ カザフスタン ④ モンゴル

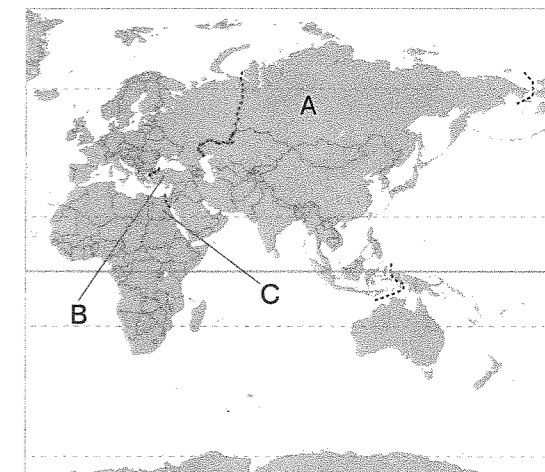
① [] ② []

③ [] ④ []

(3) 約1710万km²であるロシアの面積は、約38万km²である日本の面積のおよそ何倍か。整数で答えなさい。
[]倍

(4) 面積が世界で最も小さい国は、ある国の首都の市内に位置している。このある国の国名と、その首都名をそれぞれ答えなさい。
国名 [] 首都名 []

(5) 国名が独立運動の指導者シモン＝ボリバルの名に由来する南アメリカ州の国はどこか、答えなさい。
[]



③ 記述トレーニング 次の問いに文で答えなさい。

(1) 地球上の陸地と海洋の面積比と、どちらが大きいかを、整数を用いて説明しなさい。

(2) 島国と内陸国とはそれぞれどのような国のことか、説明しなさい。

(3) アフリカ州に国境線が直線である国が多くみられる理由を、歴史的背景に触れて説明しなさい。

1 世界の姿①

p4～9

要点の整理

p6～7

1

- (1) ユーラシア (2) アフリカ
 (3) オーストラリア (4) 南極
 (5) 北アメリカ (6) 南アメリカ
 (7) インド洋 (8) 太平洋 (9) 大西洋

【解説】

(4) 南極大陸と周辺の島々は、どこの国にも属していない。日本などの国々は科学観測の基地を置いている。

2

- (1) ヨーロッパ (2) アフリカ
 (3) アジア (4) オセアニア
 (5) 北アメリカ (6) 南アメリカ

【解説】

(1)(3) ユーラシア大陸の「ユーラシア」とは、「ヨーロッパ」と「アジア」を合わせてつくった名前である。

3

- (1) 中央アジア (2) 西アジア
 (3) 南アジア (4) 東南アジア
 (5) 東アジア

【解説】

(1)～(5) これら5つの地域に、ロシアのうちのアジア州の部分を含ませた範囲が、アジア州である。

4

- (1) 河川 (2) 山脈 (3) 海峡

【解説】

(1) アメリカ合衆国とメキシコの国境の一部は、リオグランデ川である。

(2) 中国とネパールの国境は、ヒマラヤ山脈である。

5

- (1) バチカン市国 (2) トルコ
 (3) インド (4) オーストラリア
 (5) フィリピン (6) ロシア
 (7) 中国 (8) カナダ
 (9) アメリカ合衆国 (10) エクアドル
 (11) コロンビア (12) ブラジル

【解説】

(10) 赤道は、ケニア、エクアドルなどの国々や、シンガポールのすぐ南を通る。これらの国々は、赤道の位置を確かめるときの目印になる。

確認問題

p8

- (1) 海洋 (2) 大陸 (3) ユーラシア大陸
 (4) オーストラリア大陸 (5) 大洋
 (6) 太平洋 (7) ヨーロッパ州 (8) 東アジア
 (9) オセアニア州 (10) 南極大陸 (11) 内陸国
 (12) 島国 (13) ロシア
 (14) カナダ (15) 中国
 (16) バチカン市国 (17) 国境 (18) アフリカ州
 (19) エクアドル (20) イギリス

標準問題

p9

1

- (1) A オーストラリア大陸 B 南極大陸
 (2) 1 インド洋 2 太平洋
 3 大西洋

【解説】

(2) 三つの大洋の面積は、太平洋、大西洋、インド洋の順に大きい。

2

- (1) A アジア州, ヨーロッパ州
 B アジア州, ヨーロッパ州
 C アジア州, アフリカ州
 (2) ① 南アジア ② 西アジア
 ③ 中央アジア ④ 東アジア
 (3) 45
 (4) 国名 イタリア 首都名 ローマ
 (5) ポリビア

【解説】

(1) Aはロシア、Bはトルコ、Cはエジプトを示している。

3

- (1) 陸地が全体の約3割、海洋が全体の約7割をしめ、海洋のほうが大きい。
 (2) 島国は周りを海に囲まれた国で、内陸国はまったく海に面していない国である。
 (3) ヨーロッパの国々がアフリカを分割して支配したときに人工的に引いた境界線が、そのまま国境となったから。

【解説】

(1) 表面積全体の約7割もの広さを海洋がしめている地球は、「水の惑星」ともいわれる。

(3) アフリカ州の大部分はかつてヨーロッパ諸国の植民地となった。その際に、民族の分布などには関係なく、人工的な直線の境界線が引かれ、その多くが現在の国境線として残っている。